



संघर्ष करिअर अकेडमी

पोलीस/सैन्य भरतीपूर्व प्रशिक्षण केंद्र

औरंगाबाद नाका, पंचवटी, नाशिक-३.

पोलीस भरतीपूर्व सराव लेखी परीक्षा

Date : 19 / 11 / 2022

वेळ : १.३० तास

एकूण प्रश्न- १००

गुण - १००

- १) वाक्यात शब्दांचा संबंध दाखविण्यासाठी नाम/सर्वनामांत जो बदल होतो त्यास म्हणतात.
१) कारकार्थ २) विकरण ३) विभक्ती ४) संप्रदाय
- २) गाय दुध देईल काय? या वाक्याला वर्तमान काळात रुपांतर करा?
१) गाय दुध देते. २) गाय दुध देत असते. ३) गाय दुध देते काय? ४) गाय दुध देऊ शकते.
- ३) 'पर्यावरण' या शब्दाचे लिंग ओळखा?
१) पुल्लिंगी २) स्त्रीलिंगी ३) नपुसकलिंगी ४) द्विलिंगी
- ४) पुढीलपैकी कोणत्या विभक्तीला प्रत्यय नाही?
१) संबोधन २) प्रथमा ३) द्वितीया ४) सप्तमी
- ५) पंचपाळे हे कोणत्या समासाचे उदाहरण आहे?
१) द्विगु २) बहुब्रीही ३) कर्मधारय ४) द्वंद्व
- ६) "रंक" या शब्दाचा समानार्थी शब्द ओळखा?
१) राव २) गरीब ३) कंक ४) अरंक
- ७) पुढील म्हण पूर्ण करा.
'रिकामा न्हावी भितीला
- १) केस लावी २) तुमड्या लावी ३) कातर लावी ४) कान लावी
- ८) निष्फळ या शब्दाचा अचुक विग्रह कोणता?
१) नि+फळ २) नी+फळ ३) निशः+फळ ४) निः+फळ
- ९) विशेषनामाचे होत नाहीत?
१) एकवचन २) अनेकवचन ३) बहुवचन ४) सामान्यनाम
- १०) कालदर्शक, आवृत्तिदर्शक, सातत्यदर्शक हे कोणत्या क्रियाविशेषण अव्ययाचे प्रकार आहे?
१) कालवाचक २) रितीवाचक ३) स्थलवाचक ४) विशेषण
- ११) क्, ख्, भ्, म्
१) उष्मे २) अर्धस्वर ३) स्पर्श व्यंजने ४) अल्पप्राण
- १२) संकेतार्थ वाक्य ओळखा?
१) शांत बसा २) तो शांत बसला ३) त्याने शांत बसावे ४) तु शांत बसलास तर मी सांगेन
- १३) खालीलपैकी कोणते नाम 'धर्मवाचक' नाम आहे?
१) कृष्णा २) नदी ३) हिंदू ४) गुलामगिरी
- १४) दंड नसलेले अक्षर पुढीलपैकी कोणते?
१) द २) फ ३) क्ष ४) र
- १५) माझा घोडा फारच सुंदर आहे, या वाक्यातील सार्वनामिक विशेषण ओळखा?
१) घोडा २) माझा ३) सुंदर ४) फारच
- १६) 'कोण ही गर्दी !' या वाक्यातील अधोरेखित सर्वनामाचा प्रकार कोणता?
१) धातुसाधित नाम २) प्रश्नार्थक सर्वनाम ३) दर्शक सर्वनाम ४) सामान्य सर्वनाम

Click To Join Telegram

संघर्ष करिअर अँकेडमी, पोलीस/सैन्य भरतीपुर्व प्रशिक्षण केंद्र, नाशिक-३.

- १७) तुझ्याहून, तुमच्याहून ही कोणती रूपे आहेत ?
१) सर्वनाम २) विभक्ती ३) प्रत्यय ४) विकरण
- १८) मराठी भाषेत एकूण स्वर किती आहेत ?
१) 14 २) 34 ३) 10 ४) 12
- १९) शेळीच्या पिल्लास काय म्हणतात ?
१) बकरू २) शावक ३) करडू ४) कोकरू
- २०) भाषेतील जे मुळ धातु किंवा मुळ शब्द असतात त्यांना काय म्हणतात ?
१) सिध्द शब्द २) साधित शब्द ३) उपसर्गघटीत शब्द ४) प्रत्ययघटित शब्द
- २१) प्रशंसा या शब्दाचा विरुद्धार्थी शब्द ओळखा ?
१) निंदा २) असुया ३) शाबासकी ४) शिक्षा
- २२) भयंकर तापट या अर्थाचा आलंकारिक शब्द कोणता ?
१) सांबाचा अवतार २) विष्णूचा अवतार ३) नरसिंहाचा अवतार ४) जमदग्नीचा अवतार
- २३) प्रयोग ओळखा.- 'आजसारखे गडगडते.'
१) कर्तृ-कर्म संकर २) कर्तृ-भाव संकर ३) कर्म भाव संकर ४) भाव कर्तरी संकर
- २४) 'व्यर्थ' हा शब्द पुढील पैकी कोणत्या समासाचे उदाहरण आहे ?
१) तत्पुरुष २) द्वंद्व ३) अव्ययीभाव ४) बहुव्रीही
- २५) कटी शब्दाचा अर्थ
१) झोपडी २) अबोला धरणे ३) कंबर ४) कापणे
- २६) संस्था क्रांतिकारी राष्ट्रवादाशी संबंधित होती ?
१) बॉम्बे असोसिएशन २) होमरुल लीग ३) अभिनव भारत ४) लँड होल्डर्स असोसिएशन
- २७) २०२३ ला होणारी १८ वी G-20 शिखर परिषद कोणत्या देशात होणार आहे ?
१) इंडोनेशिया २) भारत ३) अर्जेन्टिना ४) ब्राझील
- २८) हिरा चमकदार दिसतो कारण
१) परावर्तन २) अपवर्तन ३) पुर्ण आंतरिक परावर्तन ४) प्रकिर्णन
- २९) 'उत्तर महाराष्ट्र विद्यापीठ' ची स्थापना व स्थान कोणते ?
१) 1989 - जळगाव २) 1989 - वर्धा ३) 1980 - जळगाव ४) 1981 - पुणे
- ३०) राष्ट्रीय बालिका दिन कधी साजरा केला जातो ?
१) 20 जाने. २) 22 जाने. ३) 24 जाने. ४) 30 जाने.
- ३१) पासपोर्ट (पारपत्र) कोणते खाते प्रदान करते ?
१) गृह २) पर्यटन ३) परराष्ट्र ४) संरक्षण
- ३२) गोखले यांना 'भारताचा हिरा, महाराष्ट्राचे रत्न आणि कामगारांचा युवराज' असे कोणी संबोधले ?
१) रविंद्रनाथ टागोर २) म.गो. रानडे ३) बाळ गंगाधर टिळक ४) जॉन मोर्ले
- ३३) खालीलपैकी कोणी होमरुल चळवळ सुरु केली ?
१) अंनी बेझंट २) लोकमान्य टिळक ३) बॅरिस्टर जीना ४) महात्मा गांधी
१) १ २) १ व ४ ३) १ व २ ४) १, २ व ४
- ३४) भरतनाट्यम् हा कोणत्या राज्याचा शास्त्रीय नृत्य प्रकार आहे ?
१) कर्नाटक २) उत्तर प्रदेश ३) तामीळनाडू ४) केरळ
- ३५) रेला हा पारंपारिक लोकनृत्य प्रकार महाराष्ट्रामध्ये कोणत्या जिल्ह्यात आढळतो ?
१) नंदुरबार २) ठाणे ३) गडचिरोली ४) धुळे
- ३६) संगणकामधील डेटा प्रोसेसिंग युनिट कोणते ?
१) फ्लॉपी २) हॉर्ड डिस्क ३) सी.पी.यु. ४) रॅम

संघर्ष करिअर अँकेडमी, पोलीस/सैन्य भरतीपुर्व प्रशिक्षण केंद्र, नाशिक-३.

- ३७) शिवाजी कोण होता? या पुस्तकाचे लेखक कोण?
१) डॉ. नरेंद्र दाभोळकर २) शरद जोशी ३) आत्माराम भेंडे ४) गोविंद पानसरे
- ३८) दाढी करताना कोणता आरसा वापरतात?
१) सपाट आरसा २) बहिर्वक्र आरसा ३) अंतर्वक्र आरसा ४) यापैकी नाही
- ३९) मेजर ध्यानचंद खेलरत्न पुरस्कार २०२२ कोणाला देण्यात आला आहे?
१) अविनाश साबळे २) अंचता शरथ कमल ३) हार्दिक पांड्या ४) साक्षी कुमारी
- ४०) जिल्हा नियोजन व जिल्हा विकास मंडळाचे अध्यक्ष कोण असतात?
१) जिल्हाधिकारी २) जिल्हा परिषद अध्यक्ष ३) जिल्हाचे पालकमंत्री ४) मुख्य कार्यकारी अधिकारी
- ४१) चिपी विमानतळाला कोणाचे नाव देण्यात आले?
१) दि.बा. पाटील २) बॅ. नाथपै ३) स्वा.सावरकर ४) बाळासाहेब ठाकरे
- ४२) नागझीरा अभयारण्य कोणत्या जिल्ह्यात आहे?
१) चंद्रपूर २) गडचिरोली ३) गोंदिया ४) भंडारा
- ४३) 'कायद्या समोर सर्व समान' हे भारतीय राज्य घटनेच्या कोणत्या कलमात आहे?
१) 16 २) 14 ३) 12 ४) 18
- ४४) पांढरे सोने कशास म्हणतात?
१) ऊस २) कापूस ३) दुध ४) चांदी
- ४५) महाराष्ट्र पोलीस अँकेडमी कुठे आहे?
१) नागपूर २) अकोला ३) नाशिक ४) मुंबई
- ४६) भारताच्या राष्ट्रपती द्रौपदी मुर्मु या कितव्या महिला राष्ट्रपती आहे?
१) १५ २) १४ ३) १६ ४) यापैकी नाही
- ४७) एड्स हा रोग कशामुळे होतो?
१) विषाणु २) जिवाणु ३) परोपजीवी ४) फंगस
- ४८) 'शेतकऱ्यांच्या आसुड' हा ग्रंथ कोणी लिहीला?
१) म. गांधी २) गो. गा. आगरकर ३) आंबेडकर ४) म. फुले
- ४९) तिन्ही सैन्य दलाचे प्रमुख कोण आहेत?
१) उपराष्ट्रपती २) पंतप्रधान ३) राष्ट्रपती ४) राज्यपाल
- ५०) बनगरवाडी या कादंबरीचे लेखक हे आहे?
१) व्यंकटेश माडगुळकर २) ग. दि. मांडगुळकर ३) यशवंतराव चव्हाण ४) आनंद यादव
- ५१) 18, 23, 28, 33, 38, 43, या संख्यांची सरासरी किती?
१) 305 २) 185 ३) 30.5 ४) 18.5
- ५२) खालीलपैकी 4 ने निःशेष भाग जाणारी संख्या कोणती?
१) 28726 २) 68638 ३) 34782 ४) 57636
- ५३) 182 चे 104 शी गुणोत्तर किती?
१) 7:3 २) 7:9 ३) 4:7 ४) 7:4
- ५४) $0.16 / 4.8 = ?$
१) 0.02 २) 0.2 ३) 20 ४) 0.033
- ५५) द.सा.द.शे. 5 दराने सरळव्याजाने दामदुप्पट होण्यास किती वर्षे लागतील?
१) 5 २) 10 ३) 15 ४) 20
- ५६) दोन संख्यांचा म.सा.वि. 36 आहे तर खालीलपैकी कोणती संख्या ल.सा.वि. असेल?
१) 322 २) 318 ३) 326 ४) 324

संघर्ष करिअर अँकेडमी, पोलीस/सैन्य भरतीपुर्व प्रशिक्षण केंद्र, नाशिक-३.

- ५७) एक पाण्याची टाकी एका नळाने 1 तासात भरते तर दुसऱ्या नळाने 75 मिनिटात भरते आणि तिसऱ्या नळाने 50 मिनिटात खाली होते. जर तीन्ही नळ एकाच वेळी सुरु केले तर पाण्याची टाकी किती वेळात भरेल?
 १) 100 मि. २) 200 मि. ३) 300 मि. ४) 400 मि.
- ५८) $126 \div 14 \times 9^2 - 53 = x^2$ तर x ची किंमत किती?
 १) 676 २) 729 ३) 26 ४) 27
- ५९) 'अ' आणि 'ब' यांच्या उत्पादनाचे गुणोत्तर 3:2 आहे तर त्यांच्या खर्चाचे गुणोत्तर 5:3 आहे, जर प्रत्येकाची बचत 1000 रु. असेल तर 'अ' चे उत्पन्न किती?
 १) रु. 1000/- २) रु. 4000/- ३) रु. 2000/- ४) रु. 6000/-
- ६०) 10% मलईचे 120 लीटर दुध व 8% मलईचे 200 लिटर दुध एकत्र मिसळल्यास मिश्रणातील दुधात मलईचे प्रमाण किती?
 १) 7.75% २) 10.75% ३) 6.75% ४) 8.75%
- ६१) सहा क्रमवार समसंख्यांची सरासरी 33 आहे, तर त्यामधील सर्वात मोठी संख्या कोणती?
 १) 36 २) 37 ३) 38 ४) 39
- ६२) 366 पानाच्या पुस्तकावर क्रमांक टाकताना एकूण किती अंक प्रिंट करावे लागतील?
 १) 732 २) 990 ३) 1098 ४) 1305
- ६३) 1 ते 52 पर्यंतच्या सर्व सम संख्यांची बेरीज किती?
 १) 351 २) 702 ३) 650 ४) 325
- ६४) $\frac{0.9 \times 0.09 \times 0.009}{0.0009 \times 9} =$ किती?
 १) 0.9 २) 0.09 ३) 0.009 ४) 9
- ६५) $\sqrt{4 + \sqrt{16 + \sqrt{81}}} =$ किती?
 १) 15 २) 9 ३) 3 ४) 2
- ६६) $538382 \div 13 = ?$
 १) 45011 २) 42141 ३) 41414 ४) 40614
- ६७) 13 हे रोमन अंकात कसे लिहतात?
 १) IIIX २) VIII ३) IIVI ४) XIII
- ६८) 5 आंबे 125 ला मिळतात तर 9 आंबे कितीला मिळतील?
 १) 230 २) 228 ३) 226 ४) 225
- ६९) एका आयताची लांबी ही रुंदीच्या दुप्पट असून त्याची परिमीती 1020 सें.मी. आहे. तर आयताचे क्षेत्रफळ किती चौ.से.मी. असेल?
 १) 57800 २) 28900 ३) 115600 ४) 40800
- ७०) $\frac{20}{23} + \frac{21}{23} + \frac{19}{23} + ? = 3$ तर ? च्या जागी कोणती संख्या येईल.
 १) $\frac{2}{23}$ २) $\frac{5}{20}$ ३) $\frac{7}{20}$ ४) $\frac{9}{23}$
- ७१) एका संख्येचा ६०% व ४०% यातील फरक १०० आहे, तर ती संख्या कोणती?
 १) 200 २) 500 ३) 1000 ४) 400
- ७२) एका त्रिकोणाच्या तीन बाजूचे माप 9 से.मी., 12 से.मी. आणि 15 से.मी. असेल तर त्रिकोणाचे क्षेत्रफळ किती?
 १) 54 cm² २) 44 cm² ३) 61 cm² ४) 34 cm²
- ७३) शाम यांनी एका कंपनीचे 100 भाग ज्यांची दर्शनी किंमत 120 रु. आहे; असे भाग शे. 30 जास्त रक्कम देऊन 2% दलाली ने खरेदी केले परंतु लवकरच संपुर्ण भाग दर्शनी किंमतीच्या 40% जास्त रक्कम घेवून शे. 2.5% दलाली दिली व विकले तर त्या व्यवहारामध्ये त्यांना किती फायदा किंवा तोटा झाला?
 १) 568 २) 368 ३) 468 ४) 768

संघर्ष करिअर अकेडमी, पोलीस/सैन्य भरतीपुर्व प्रशिक्षण केंद्र, नाशिक-३.

७४) $\frac{5}{6} = \frac{?}{30}$

- १) 15 २) 20 ३) 25 ४) 30

७५) 468.3251 या संख्येमध्ये 5 या अंकाची स्थानिक किंमत आहे.

- १) 5×10^{-2} २) 5×10^{-3} ३) 5×10^{-1} ४) 5×10^{-4}

७६) AC, BE, CG, DI,?

- १) EG २) FG ३) EK ४) EH

७७) $3 \times 5 = 34$, $5 \times 7 = 74$; तर $7 \times 9 = ?$

- १) 96 २) 130 ३) 72 ४) 126

७८)  * एकूण त्रिकोण किती?

- १) 6 २) 4 ३) 8 ४) 10

७९) सोमवार : शनिवार :: चैत्र : ?

- १) भाद्रपद २) आश्विन ३) श्रावण ४) कार्तिक

८०) नीता गीताला म्हणाली, "मी तुझ्या वडीलांच्या आईची एकुलती एक सुन आहे." तर नीता गीताची कोण आहे?

- १) आई २) मुलगी ३) बहिण ४) आजी

८१) जर स्वातंत्र्य दिन रविवारी येतो तर महात्मा गांधी जयंती कधी येते?

- १) शनिवार २) रविवार ३) सोमवार ४) बुधवार

* 82 ते 85 साठी

Work is Worship म्हणजे ji rt pq

Work hard always म्हणजे jk mn uv

always do worship म्हणजे UV st pq

hard time passes म्हणजे mn ab ef

८२) Work = ?

- १) rt २) mn ३) ab ४) jk

८३) Worship = ?

- १) rt २) mn ३) pq ४) ef

८४) Hard = ?

- १) rt २) mn ३) pq ४) ef

८५) is = ?

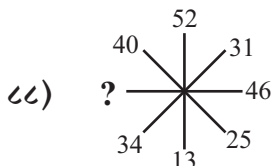
- १) rt २) mn ३) pq ४) ef

८६)  ? आरशातील प्रतिमा दर्शवणारा पर्याय निवडा?

- १)  २)  ३)  ४) 


| | | |
|----|----|----|
| 17 | 29 | 41 |
| 47 | 19 | 37 |
| 31 | ? | 43 |

- १) 23 २) 27
३) 20 ४) 53



- १) 19 २) 13
३) 16 ४) 17

संघर्ष करिअर अँकेडमी, पोलीस/सैन्य भरतीपुर्व प्रशिक्षण केंद्र, नाशिक-३.



- १) 63 २) 57
३) 61 ४) 48

९०) खालील संख्यामालिकेत न बसणारे पद ओळखा ?

$$80, 16, 4, \frac{4}{3}, \frac{2}{4}, \frac{2}{3}$$

- १) 16 २) $\frac{4}{3}$ ३) $\frac{2}{4}$ ४) $\frac{2}{3}$

९१) एका पिशवीमध्ये १३ पांढरे आणि ७ काळे चेंडू आहेत. त्यापैकी कोणतेही दोन चेंडू बाहेर काढले तर ते दोन्ही चेंडू सारख्या रंगाचे असण्याची संभाव्यता किती ?

- १) $\frac{41}{90}$ २) $\frac{21}{90}$ ३) $\frac{59}{190}$ ४) $\frac{99}{190}$

९२) खालील पैकी विसंगत पर्याय ओळखा ?



९३) वर्तुळ : परिघ :: आयत : ?

- १) परिघ २) परिमिती ३) क्षेत्रफळ ४) क्रिया

९४) फाश्याच्या दोन अवस्था दिलेल्या आहेत ?




2 च्या विरुद्ध अंगास कोणती संख्या असेल

- १) 1 २) 6 ३) 4 ४) 5

९५) जर 2^{256} ला 17 ने भागले तर बाकी शोधा ?

- १) 1 २) 2 ३) 3 ४) 5

९६) खालील आकृतीत किती चौकोन आहेत ?



- १) 308 २) 315
३) 420 ४) 410

९७) जर $12 + 04 = 7$; $20 + 05 = 09$; $24 + 06 = 10$; $01 + 01 = ?$

- १) ० २) 1 ३) 2 ४) 4

९८) सर्वात मोठा अपूर्णाक कोणता ?

- १) $\frac{13}{21}$ २) $\frac{9}{13}$ ३) $\frac{11}{17}$ ४) $\frac{7}{11}$

९९) मालिका पूर्ण करा. - 3, 6, 12, 24, 48, ?

- १) 96 २) 98 ३) 94 ४) 92

१००) जर $M^2 = 169$ आणि $G^2 = 49$ तर W^2 ची किंमत किती ?

- १) 729 २) 529 ३) 429 ४) 629

सर्व परिक्षार्थींना शुभेच्छा...!

नागरै सर

*** प्रश्न संकलन ***

सागर सानप

मार्गदर्शक : संघर्ष करिअर अँकेडमी, नाशिक.

संचालक : संघर्ष करिअर अँकेडमी, नाशिक.

मोबा.: **8805936906**

मोबा.: **8698150480**



संघर्ष करिअर ॲकेडमी

उत्तर पत्रिका

पोलीस/सैन्य भरतीपुर्व प्रशिक्षण केंद्र

औरंगाबाद नाका, पंचवटी, नाशिक-३. Mob.: 8805936906 / 8698150480

विद्यार्थ्याचे नांव _____

मोबाईल नं. _____

चाचणी दिनांक _____

विद्यार्थ्याची सही

पर्यवेक्षकाची सही

Date : 19 / 11 / 2022

| | A | B | C | D |
|---|----------------------------------|----------------------------------|----------------------------------|-----------------------|
| 1 | <input type="radio"/> | <input type="radio"/> | <input checked="" type="radio"/> | <input type="radio"/> |
| 2 | <input type="radio"/> | <input type="radio"/> | <input checked="" type="radio"/> | <input type="radio"/> |
| 3 | <input type="radio"/> | <input type="radio"/> | <input checked="" type="radio"/> | <input type="radio"/> |
| 4 | <input type="radio"/> | <input checked="" type="radio"/> | <input type="radio"/> | <input type="radio"/> |
| 5 | <input checked="" type="radio"/> | <input type="radio"/> | <input type="radio"/> | <input type="radio"/> |

| | A | B | C | D |
|----|----------------------------------|-----------------------|----------------------------------|----------------------------------|
| 21 | <input checked="" type="radio"/> | <input type="radio"/> | <input type="radio"/> | <input type="radio"/> |
| 22 | <input type="radio"/> | <input type="radio"/> | <input type="radio"/> | <input checked="" type="radio"/> |
| 23 | <input type="radio"/> | <input type="radio"/> | <input type="radio"/> | <input checked="" type="radio"/> |
| 24 | <input type="radio"/> | <input type="radio"/> | <input checked="" type="radio"/> | <input type="radio"/> |
| 25 | <input type="radio"/> | <input type="radio"/> | <input checked="" type="radio"/> | <input type="radio"/> |

| | A | B | C | D |
|----|-----------------------|----------------------------------|----------------------------------|-----------------------|
| 41 | <input type="radio"/> | <input checked="" type="radio"/> | <input type="radio"/> | <input type="radio"/> |
| 42 | <input type="radio"/> | <input type="radio"/> | <input checked="" type="radio"/> | <input type="radio"/> |
| 43 | <input type="radio"/> | <input checked="" type="radio"/> | <input type="radio"/> | <input type="radio"/> |
| 44 | <input type="radio"/> | <input checked="" type="radio"/> | <input type="radio"/> | <input type="radio"/> |
| 45 | <input type="radio"/> | <input type="radio"/> | <input checked="" type="radio"/> | <input type="radio"/> |

| | A | B | C | D |
|----|-----------------------|----------------------------------|----------------------------------|-----------------------|
| 61 | <input type="radio"/> | <input type="radio"/> | <input checked="" type="radio"/> | <input type="radio"/> |
| 62 | <input type="radio"/> | <input checked="" type="radio"/> | <input type="radio"/> | <input type="radio"/> |
| 63 | <input type="radio"/> | <input checked="" type="radio"/> | <input type="radio"/> | <input type="radio"/> |
| 64 | <input type="radio"/> | <input checked="" type="radio"/> | <input type="radio"/> | <input type="radio"/> |
| 65 | <input type="radio"/> | <input type="radio"/> | <input checked="" type="radio"/> | <input type="radio"/> |

| | A | B | C | D |
|----|----------------------------------|----------------------------------|----------------------------------|----------------------------------|
| 81 | <input checked="" type="radio"/> | <input type="radio"/> | <input type="radio"/> | <input type="radio"/> |
| 82 | <input type="radio"/> | <input type="radio"/> | <input type="radio"/> | <input checked="" type="radio"/> |
| 83 | <input type="radio"/> | <input type="radio"/> | <input checked="" type="radio"/> | <input type="radio"/> |
| 84 | <input type="radio"/> | <input checked="" type="radio"/> | <input type="radio"/> | <input type="radio"/> |
| 85 | <input checked="" type="radio"/> | <input type="radio"/> | <input type="radio"/> | <input type="radio"/> |

| | A | B | C | D |
|----|----------------------------------|----------------------------------|-----------------------|----------------------------------|
| 6 | <input type="radio"/> | <input checked="" type="radio"/> | <input type="radio"/> | <input type="radio"/> |
| 7 | <input type="radio"/> | <input checked="" type="radio"/> | <input type="radio"/> | <input type="radio"/> |
| 8 | <input type="radio"/> | <input type="radio"/> | <input type="radio"/> | <input checked="" type="radio"/> |
| 9 | <input type="radio"/> | <input checked="" type="radio"/> | <input type="radio"/> | <input type="radio"/> |
| 10 | <input checked="" type="radio"/> | <input type="radio"/> | <input type="radio"/> | <input type="radio"/> |

| | A | B | C | D |
|----|----------------------------------|----------------------------------|----------------------------------|-----------------------|
| 26 | <input type="radio"/> | <input type="radio"/> | <input checked="" type="radio"/> | <input type="radio"/> |
| 27 | <input type="radio"/> | <input checked="" type="radio"/> | <input type="radio"/> | <input type="radio"/> |
| 28 | <input type="radio"/> | <input type="radio"/> | <input checked="" type="radio"/> | <input type="radio"/> |
| 29 | <input checked="" type="radio"/> | <input type="radio"/> | <input type="radio"/> | <input type="radio"/> |
| 30 | <input type="radio"/> | <input type="radio"/> | <input checked="" type="radio"/> | <input type="radio"/> |

| | A | B | C | D |
|----|----------------------------------|-----------------------|----------------------------------|----------------------------------|
| 46 | <input type="radio"/> | <input type="radio"/> | <input type="radio"/> | <input checked="" type="radio"/> |
| 47 | <input checked="" type="radio"/> | <input type="radio"/> | <input type="radio"/> | <input type="radio"/> |
| 48 | <input type="radio"/> | <input type="radio"/> | <input type="radio"/> | <input checked="" type="radio"/> |
| 49 | <input type="radio"/> | <input type="radio"/> | <input checked="" type="radio"/> | <input type="radio"/> |
| 50 | <input checked="" type="radio"/> | <input type="radio"/> | <input type="radio"/> | <input type="radio"/> |

| | A | B | C | D |
|----|----------------------------------|-----------------------|----------------------------------|----------------------------------|
| 66 | <input type="radio"/> | <input type="radio"/> | <input checked="" type="radio"/> | <input type="radio"/> |
| 67 | <input type="radio"/> | <input type="radio"/> | <input type="radio"/> | <input checked="" type="radio"/> |
| 68 | <input type="radio"/> | <input type="radio"/> | <input type="radio"/> | <input checked="" type="radio"/> |
| 69 | <input checked="" type="radio"/> | <input type="radio"/> | <input type="radio"/> | <input type="radio"/> |
| 70 | <input type="radio"/> | <input type="radio"/> | <input type="radio"/> | <input checked="" type="radio"/> |

| | A | B | C | D |
|----|----------------------------------|----------------------------------|----------------------------------|-----------------------|
| 86 | <input type="radio"/> | <input type="radio"/> | <input checked="" type="radio"/> | <input type="radio"/> |
| 87 | <input checked="" type="radio"/> | <input type="radio"/> | <input type="radio"/> | <input type="radio"/> |
| 88 | <input checked="" type="radio"/> | <input type="radio"/> | <input type="radio"/> | <input type="radio"/> |
| 89 | <input type="radio"/> | <input checked="" type="radio"/> | <input type="radio"/> | <input type="radio"/> |
| 90 | <input type="radio"/> | <input type="radio"/> | <input checked="" type="radio"/> | <input type="radio"/> |

| | A | B | C | D |
|----|-----------------------|----------------------------------|----------------------------------|----------------------------------|
| 11 | <input type="radio"/> | <input type="radio"/> | <input checked="" type="radio"/> | <input type="radio"/> |
| 12 | <input type="radio"/> | <input type="radio"/> | <input type="radio"/> | <input checked="" type="radio"/> |
| 13 | <input type="radio"/> | <input type="radio"/> | <input type="radio"/> | <input checked="" type="radio"/> |
| 14 | <input type="radio"/> | <input type="radio"/> | <input type="radio"/> | <input checked="" type="radio"/> |
| 15 | <input type="radio"/> | <input checked="" type="radio"/> | <input type="radio"/> | <input type="radio"/> |

| | A | B | C | D |
|----|-----------------------|----------------------------------|----------------------------------|-----------------------|
| 31 | <input type="radio"/> | <input checked="" type="radio"/> | <input type="radio"/> | <input type="radio"/> |
| 32 | <input type="radio"/> | <input type="radio"/> | <input checked="" type="radio"/> | <input type="radio"/> |
| 33 | <input type="radio"/> | <input type="radio"/> | <input checked="" type="radio"/> | <input type="radio"/> |
| 34 | <input type="radio"/> | <input type="radio"/> | <input checked="" type="radio"/> | <input type="radio"/> |
| 35 | <input type="radio"/> | <input type="radio"/> | <input checked="" type="radio"/> | <input type="radio"/> |

| | A | B | C | D |
|----|-----------------------|-----------------------|----------------------------------|----------------------------------|
| 51 | <input type="radio"/> | <input type="radio"/> | <input checked="" type="radio"/> | <input type="radio"/> |
| 52 | <input type="radio"/> | <input type="radio"/> | <input type="radio"/> | <input checked="" type="radio"/> |
| 53 | <input type="radio"/> | <input type="radio"/> | <input checked="" type="radio"/> | <input type="radio"/> |
| 54 | <input type="radio"/> | <input type="radio"/> | <input type="radio"/> | <input checked="" type="radio"/> |
| 55 | <input type="radio"/> | <input type="radio"/> | <input type="radio"/> | <input checked="" type="radio"/> |

| | A | B | C | D |
|----|----------------------------------|----------------------------------|----------------------------------|-----------------------|
| 71 | <input type="radio"/> | <input checked="" type="radio"/> | <input type="radio"/> | <input type="radio"/> |
| 72 | <input checked="" type="radio"/> | <input type="radio"/> | <input type="radio"/> | <input type="radio"/> |
| 73 | <input type="radio"/> | <input checked="" type="radio"/> | <input type="radio"/> | <input type="radio"/> |
| 74 | <input type="radio"/> | <input type="radio"/> | <input checked="" type="radio"/> | <input type="radio"/> |
| 75 | <input type="radio"/> | <input checked="" type="radio"/> | <input type="radio"/> | <input type="radio"/> |

| | A | B | C | D |
|----|----------------------------------|----------------------------------|-----------------------|----------------------------------|
| 91 | <input type="radio"/> | <input type="radio"/> | <input type="radio"/> | <input checked="" type="radio"/> |
| 92 | <input checked="" type="radio"/> | <input type="radio"/> | <input type="radio"/> | <input type="radio"/> |
| 93 | <input type="radio"/> | <input checked="" type="radio"/> | <input type="radio"/> | <input type="radio"/> |
| 94 | <input type="radio"/> | <input type="radio"/> | <input type="radio"/> | <input checked="" type="radio"/> |
| 95 | <input checked="" type="radio"/> | <input type="radio"/> | <input type="radio"/> | <input type="radio"/> |

| | A | B | C | D |
|----|----------------------------------|-----------------------|----------------------------------|----------------------------------|
| 16 | <input type="radio"/> | <input type="radio"/> | <input type="radio"/> | <input checked="" type="radio"/> |
| 17 | <input type="radio"/> | <input type="radio"/> | <input type="radio"/> | <input checked="" type="radio"/> |
| 18 | <input checked="" type="radio"/> | <input type="radio"/> | <input type="radio"/> | <input type="radio"/> |
| 19 | <input type="radio"/> | <input type="radio"/> | <input checked="" type="radio"/> | <input type="radio"/> |
| 20 | <input checked="" type="radio"/> | <input type="radio"/> | <input type="radio"/> | <input type="radio"/> |

| | A | B | C | D |
|----|-----------------------|----------------------------------|----------------------------------|----------------------------------|
| 36 | <input type="radio"/> | <input type="radio"/> | <input checked="" type="radio"/> | <input type="radio"/> |
| 37 | <input type="radio"/> | <input type="radio"/> | <input type="radio"/> | <input checked="" type="radio"/> |
| 38 | <input type="radio"/> | <input type="radio"/> | <input checked="" type="radio"/> | <input type="radio"/> |
| 39 | <input type="radio"/> | <input checked="" type="radio"/> | <input type="radio"/> | <input type="radio"/> |
| 40 | <input type="radio"/> | <input type="radio"/> | <input checked="" type="radio"/> | <input type="radio"/> |

| | A | B | C | D |
|----|----------------------------------|-----------------------|----------------------------------|----------------------------------|
| 56 | <input type="radio"/> | <input type="radio"/> | <input type="radio"/> | <input checked="" type="radio"/> |
| 57 | <input checked="" type="radio"/> | <input type="radio"/> | <input type="radio"/> | <input type="radio"/> |
| 58 | <input type="radio"/> | <input type="radio"/> | <input checked="" type="radio"/> | <input type="radio"/> |
| 59 | <input type="radio"/> | <input type="radio"/> | <input type="radio"/> | <input checked="" type="radio"/> |
| 60 | <input type="radio"/> | <input type="radio"/> | <input type="radio"/> | <input checked="" type="radio"/> |

| | A | B | C | D |
|----|----------------------------------|----------------------------------|----------------------------------|-----------------------|
| 76 | <input type="radio"/> | <input type="radio"/> | <input checked="" type="radio"/> | <input type="radio"/> |
| 77 | <input type="radio"/> | <input checked="" type="radio"/> | <input type="radio"/> | <input type="radio"/> |
| 78 | <input type="radio"/> | <input type="radio"/> | <input checked="" type="radio"/> | <input type="radio"/> |
| 79 | <input checked="" type="radio"/> | <input type="radio"/> | <input type="radio"/> | <input type="radio"/> |
| 80 | <input checked="" type="radio"/> | <input type="radio"/> | <input type="radio"/> | <input type="radio"/> |

| | A | B | C | D |
|-----|----------------------------------|----------------------------------|----------------------------------|-----------------------|
| 96 | <input type="radio"/> | <input type="radio"/> | <input checked="" type="radio"/> | <input type="radio"/> |
| 97 | <input type="radio"/> | <input type="radio"/> | <input checked="" type="radio"/> | <input type="radio"/> |
| 98 | <input type="radio"/> | <input checked="" type="radio"/> | <input type="radio"/> | <input type="radio"/> |
| 99 | <input checked="" type="radio"/> | <input type="radio"/> | <input type="radio"/> | <input type="radio"/> |
| 100 | <input type="radio"/> | <input checked="" type="radio"/> | <input type="radio"/> | <input type="radio"/> |

Box वर Click करून Telegram जॉइन करा.

रजि.महा.१५४/२०२२/ नाशिक



संघर्ष करिअर अॅकेडमी

प्रवेश
सुरू

पोलीस / सैन्य भरतीपुर्व प्रशिक्षण केंद्र, नाशिक-३.

आगामी होणाऱ्या पोलीस भरतीसाठी
स्पेशल बॅच सुरू आहे.

राहण्याची व जेवणाची
उत्तम सुविधा

सुसज्ज मैदान व
लेक्चर हॉल

अनुभवी प्रशिक्षक

सर्व विषयांची
सखोल तयारी

मैदानी सर्व इव्हेंटचा
दररोज सराव

वेळ सकाळी ७ ते ५



पत्ता : औरंगाबाद नाका, पंचवटी नाशिक-३

संपर्क : 8805936906 / 8698150480